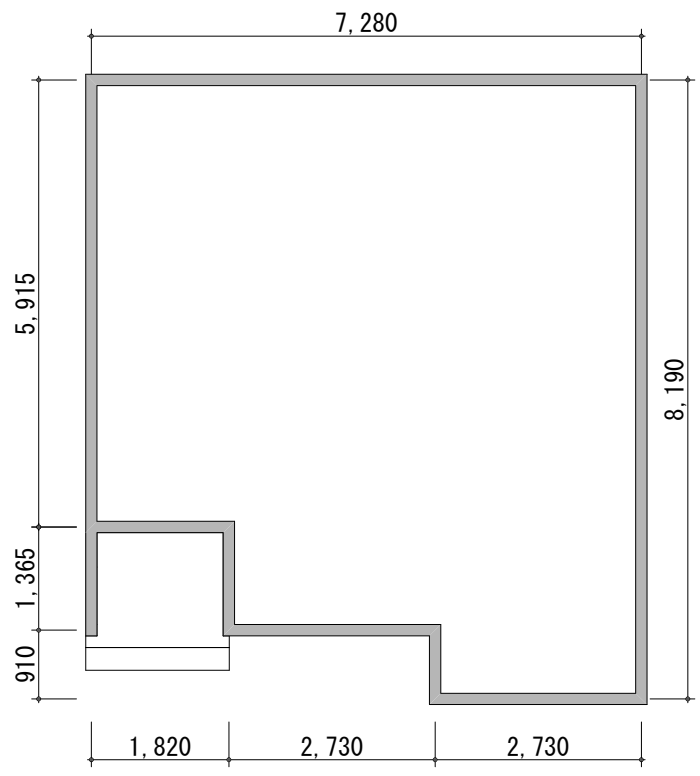
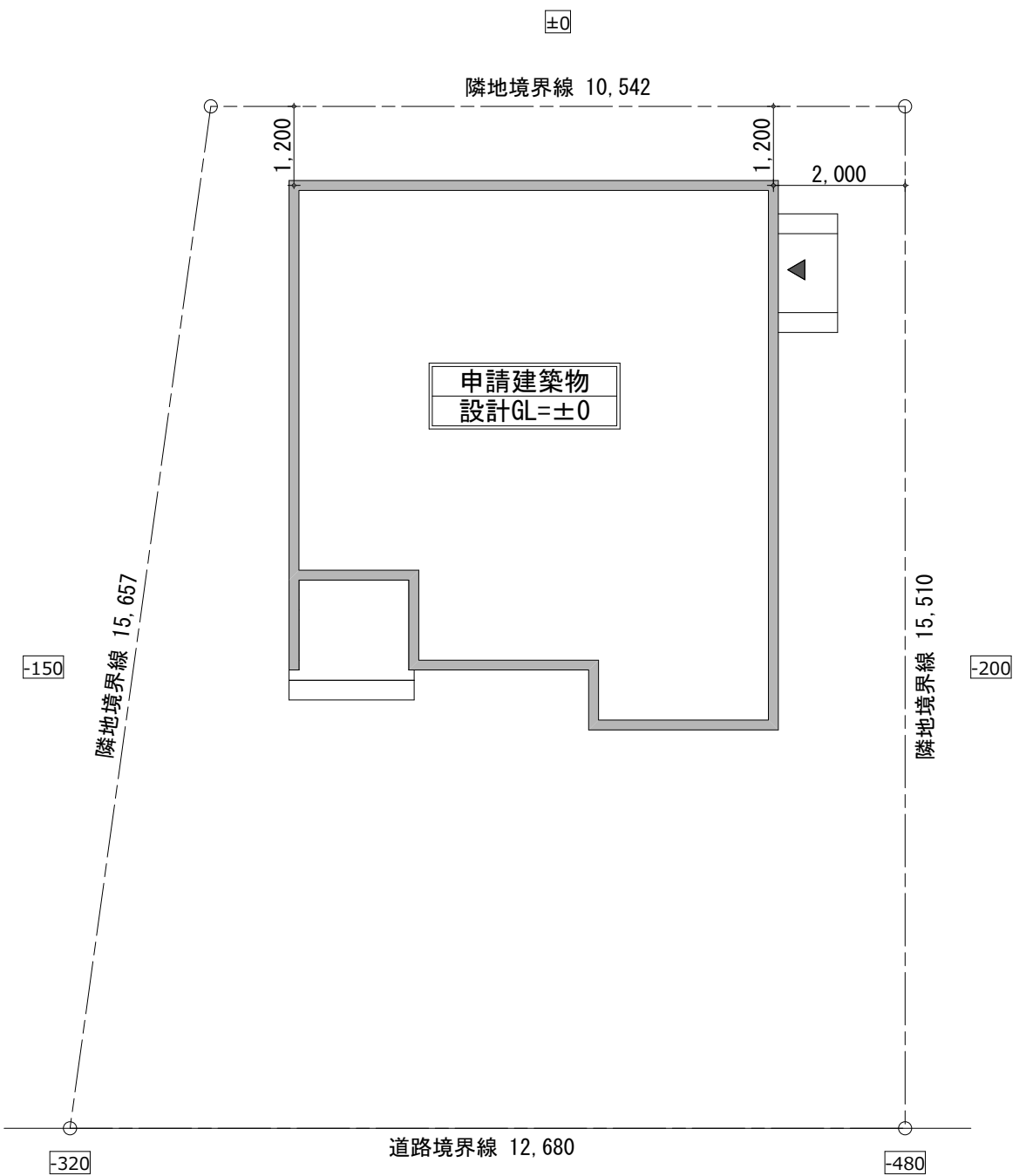


敷地求積図 S=1/100



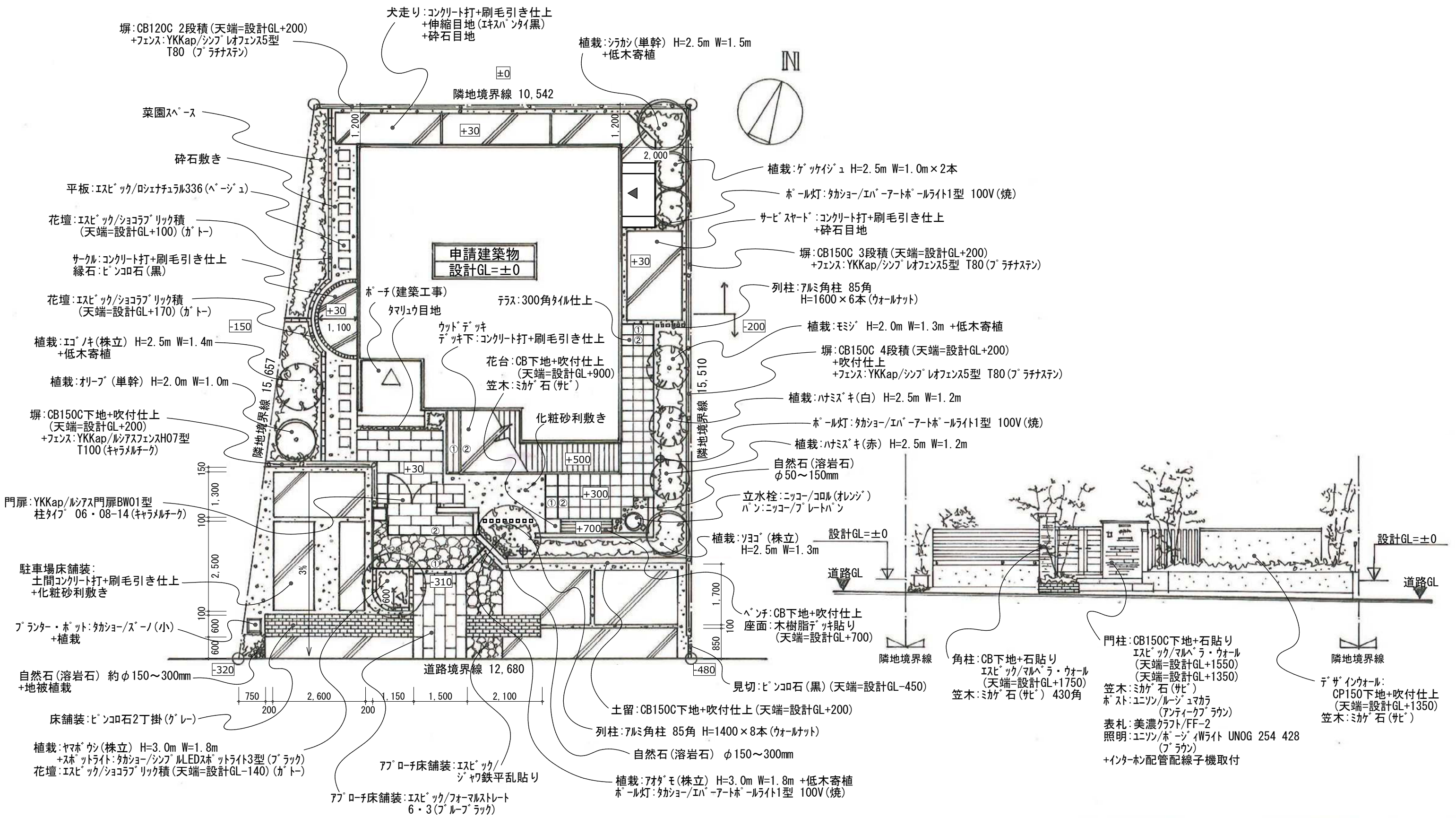
建物寸法 S=1/100

※寸法は建物芯の寸法です。
建物芯より壁厚75mmで作図してください



建物配置図 S=1/100

TITLE	DRAWING TITLE	SCALE	DATE	PLANNER	CHECKED	REMARKS
RIKCAD検定1級 ③	敷地図 建物配置図	S=1/100				本図面の著作権は株式会社ユニマトリックに帰属し、当社の許可無く内容の一部およびすべてを複製、転載または配布、印刷など、第三者の利用に供することを禁止します。無許可での転載、複製、転用等は著作権侵害となり、法的に罰せられることがあります。
《1級試験 CAD実技問題》						



TITLE	DRAWING TITLE	SCALE	DATE	PLANNER	CHECKED	NOTES
RIKCAD検定1級 ③	平面・立面 入力指示図	S=1/100				本図面の著作権は株式会社ユニマツリックに帰属し、当社の許可無く 内容の一部およびすべてを複製、転載または配布、印刷など、第三者の 利用に供することを禁止します。無許可での転載、複製、転用等は 著作権侵害となり、法的に罰せられることがあります。
《1級試験 CAD実技問題》						